

1

DENEME
SINAVI

MERKEZ YAYINLARI

Bu soruların her hakkı **Merkez Yayınları**'na aittir. Hangi amaçla olursa olsun, tamamının veya bir kısmının kopya edilmesi, fotoğraflarının çekilmesi, herhangi bir yolla çoğaltılması ya da kullanılması, yayımlanması, **Merkez Yayınları**'nın yazılı izni olmadan yapılamaz.

SORU KİTAPÇIK NUMARASI									
T.C. KİMLİK NUMARASI									
ADI									
SOYADI									
SALON NO.								SIRA NO.	

ADAYIN DİKKATİNE!**SINAV BAŞLAMADAN ÖNCE AŞAĞIDAKİ UYARILARI MUTLAKA OKUYUNUZ.**

1. T.C. Kimlik Numaranızı, Adınızı, Soyadınızı, Salon Numaranızı ve Sıra Numaranızı, Soru Kitapçığı üzerindeki ilgili alanlara yazınız.
2. Soru Kitapçık Numaranız yukarıda verilmiştir. Bu numarayı cevap kâğıdınızdaki ilgili alana kodlayınız ve aşağıdaki ilgili alanı imzalayınız. Bu kodlamayı cevap kâğıdınıza yapmadığınız veya yanlış yaptığınız takdirde, sınavınızın değerlendirilmesi mümkün değildir. Bu numaranın cevap kâğıdı üzerine kodlanmamasının eksik veya yanlış kodlanmasının sorumluluğu size aittir.
3. Bu sayfanın arkasında yer alan açıklamayı dikkatle okuyunuz.

Adayın İmzası:

Soru kitapçık numarasını
cevap kâğıdındaki alana doğru kodladım.

1. Bu testte sırasıyla, Tarih-2 (1-11), Coğrafya-2 (12-22), Felsefe Grubu (23-34), Din Kültürü ve Ahlak Bilgisi (35-40), Din Kültürü ve Ahlak Bilgisi dersini yasal olarak almak zorunda olmayan veya farklı müfredat ile alanlar için Felsefe Grubu (41-46) alanlarına ait toplam 46 soru vardır.
2. Cevaplarınızı, cevap kâğıdının Türk Dili ve Edebiyatı-Sosyal Bilimler-1 Testi için ayrılan kısmına işaretleyiniz.

1. Tarih bilimi, geçmişten günümüze gelen olay ve olguları(I)..... bir süreçte ele aldığı için(II)..... arasında neden-sonuç ilişkilerini ortaya koyar. Böylece bireylerde çok yönlü düşünme yeteneği gelişir ve bireyler tarihî süreçte meydana gelen değişimleri ve süreklilikleri algılar. Tarihsel(III).... ile geçmişte yaşamış insanların değer yargıları, olaylara ve dünyaya nasıl baktıkları, ne hissettikleri anlaşılabilir ve bunun sonucunda insanların geçmişi anlama becerisi gelişir.

Yukarıdaki boşluklara gelmesi gereken en uygun kavramlar, aşağıdaki seçeneklerin hangisinde doğru sırayla verilmiştir?

I	II	III
A) yakın	gelişmeler	objektiflik
B) kronolojik	olay ve olgular	empati
C) karmaşık	çağlar	bilgi
D) kısa	yaşananlar	duyarlılık
E) doğrusal	siyasi olaylar	yorumlama

2. Tarihçiler, antropologlar, arkeologlar, sanat tarihçileri ve filologlar tarafından yapılan çalışmalar sonucunda Türklerin ilk anayurdunun Orta Asya olduğu tespit edilmiştir.

Buna göre, aşağıdaki bölgelerden hangisi, Türklerin anayurdu olarak gösterilemez?

- A) Hazar Denizi'nin batısı
- B) Tanrı Dağları'nın kuzeyi
- C) Çin'in kuzeybatısı
- D) Sibiry'a'nın güneyi
- E) Ötüken ve çevresi

3. Büyük Selçuklular Dönemi'nde yönetim,

- I. töre,
- II. kut,
- III. şûra

anlaşılarından hangilerinin etrafında şekillenmiştir?

- A)Yalnız I B) Yalnız II C)Yalnız III
D) I ve III E) I,II ve III

4. Osmanlı Devleti'nde ordu XVI. yüzyıl sonlarına kadar eğitimli ve mükemmel bir yapıya sahipti. Ancak devşirme usulüne aykırı olarak Kapıkulu Ocaklarına eğitimsiz ve başıboş kimselerin girmesiyle askerî teşkilatta bozulmalar başlamıştır. Merkezdeki bu bozulmaların yanında taşrada eyalet kuvvetlerinin de bozulmasıyla ordu eski gücünü kaybetmiştir. Bunun üzerine XVIII ve XIX. yüzyıllarda askerî alanda önemli ıslahatlar yapılmış ve yeni tarz ordular kurulmaya başlanmıştır.

Aşağıdakilerden hangisi bu ordulardan biri değildir?

- A) Nizam-ı Cedit
- B) Sekban-ı Cedit
- C) Yaya ve Müsellem
- D) Asâkir-i Mansure-yi Muhammediye
- E) Hamidiye Alayları

5. Otuz Yıl Savaşları'nın sonunda imzalanan bu antlaşma ile modern siyaset anlayışına dayalı bir devletler sistemi kurulmuş; kilise hegemonyası yerine, çıkar ve gücün belirleyici olduğu bir uluslararası ilişkiler sistemi ortaya çıkmıştır. Bir başka deyişle 1648'de imzalanan bu antlaşma ile laik(seküler) devletlerin birbirlerini egemen birimler olarak tanıdıkları çağdaş devletler sisteminin ortaya çıkmasının yolu açılmıştır.

Avrupa tarihinde önemli bir süreci başlatan bu antlaşma aşağıdakilerden hangisidir?

- A) Westphalia
- B) Berlin
- C) Zivatorok
- D) Paris
- E) Zürih

6. Osmanlı Devleti'nde halkın çoğunluğu geçimini tarımdan sağlardı. Halk elde ettiği ürün üzerinden öşür ve haraç adıyla farklı oranda gelir vergisi öderdi.

Bu uygulamada öncelikle aşağıdakilerden hangisi göz önünde tutulmuştur?

- A) Yöresel ve coğrafi koşullar
- B) Halkın gelir düzeyi
- C) Dini inançlar
- D) Askeri koşullar
- E) Devlet giderleri

7. XIX. yüzyılda büyük devletler arasında yaşanan çıkar çatışmaları, XX. yüzyıl başlarında Osmanlı Devleti'nden ayrılarak bağımsız olan devletler arasında da yaşanmıştır.

Aşağıdaki savaşlardan hangisinin bu yargıyı doğrular nitelikte olduğu söylenebilir?

- A) 93 Harbi
- B) Dömeke Savaşı
- C) Trablusgarp Savaşı
- D) I. Balkan Savaşı
- E) II. Balkan Savaşı

8. İşgalleri ve katliamları protesto etmek için ülkenin her yerinde mitingler yapıldı ve İtilaf Devletleri temsilciliklerine protesto telgrafları çekildi. Mitinglerin en büyükleri ve en çok ses getirenleri, on binlerce İstanbullunun katıldığı Fatih, Kadıköy ve Sultanahmet mitingleridir. Fatih Mitingi'nde Halide Edip (Adıvar); Sultanahmet Mitingi'nde Nakiye (Elgün), Halide Edip (Adıvar), Mehmet Emin (Yurdakul), Hamdullah Suphi (Tanrıöver) ve Selim Sırrı (Tarcan); Kadıköy Mitingi'nde Münevver Saime Hanım yaptıkları konuşmalarla halkın millî duygularını coşturdular. Bu konuşmalar gazeteler aracılığıyla bütün yurda yayıldı.

Bu sürecin yaşandığı tarih aralığı aşağıdaki seçeneklerin hangisinde doğru verilmiştir?

- A) 1909 – 1912
- B) 1912 – 1914
- C) 1914 – 1917
- D) 1918 – 1921
- E) 1921 – 1923

9. Kurtuluş Savaşı ile ilgili olarak aşağıdakilerden hangisinde I.'de verilen olayın II.'ye ortam hazırladığı söylenemez?

	I. Olay	II. Olay
A)	I. İnönü Savaşı'nın kazanılması	Sovyet Rusya ile Moskova Antlaşması'nın imzalanması
B)	II. İnönü Savaşı'nın kazanılması	İstiklâl Marşı'nın millî marş olarak kabul edilmesi
C)	Kütahya-Eskişehir Savaşı'nın kaybedilmesi	Tekâlif-i Milliye Emirlerinin yayımlanması
D)	Sakarya Savaşı'nın kazanılması	Fransa ile Ankara Antlaşması'nın imzalanması
E)	Büyük Taarruz'un kazanılması	Mudanya Ateşkes Antlaşması'nın imzalanması

10. Bir tarih öğretmeni, "Atatürkçü düşüncenin cumhuriyetçilik ilkesi doğrultusunda, Millî Mücadele'yi yapan I. TBMM'nin yaptığı tek inkılaptır." diyerek aşağıdakilerden hangisinin önemini vurgulamıştır?

- A) Saltanatın kaldırılmasının
- B) Ankara'nın başkent yapılmasının
- C) Halifeliğin kaldırılmasının
- D) Kanun-i Esasi'nin yürürlükten kaldırılmasının
- E) Temsil Heyeti'nin oluşturulmasının

11. Türkiye'nin Milletler Cemiyeti'ne üye olması,

- I. Boğazlar,
- II. Hatay,
- III. Musul

sorunlarından hangilerinin çözümüne katkı sağlamıştır?

- A) Yalnız I
- B) Yalnız II
- C) Yalnız III
- D) I ve II
- E) I, II ve III

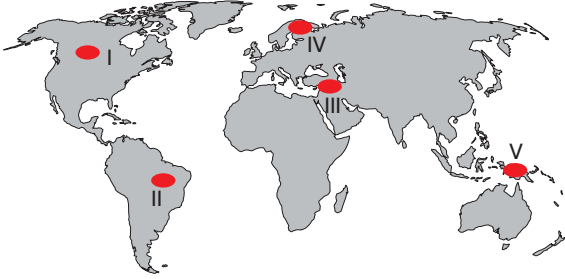
12. Dünya nüfusunun ve yaşam standartlarının artması doğal kaynakların tüketimini hızlandırmıştır. Sınırlı kaynaklara sahip dünyamız artan tüketime yetişemez hâle gelmektedir. Bu durum doğal kaynakların maksimum verimle kullanılmasını zorunlu hale getirmiştir. Sıfır atık felsefesi bu zorunluluğun bir ürünü olarak ortaya çıkmıştır. Sıfır atık felsefesinin öncelikli amacı atık oluşumunun engellenmesi ya da en aza indirilmesidir. Atık oluşumu durumunda ise atıkların geri kazanım işlemlerinden geçirilerek yeniden kullanılabilir madde elde edilmesi amaçlanır.

Bir ülkede, sıfır atık uygulamalarının hem bireysel hem de kurumsal olarak yaygınlaşması durumunda, aşağıdakilerden hangisinin görülmesi beklenmez?

- A) Enerji ve ham madde fiyatlarının artması
- B) İsrafın önlenerek tasarrufların artması
- C) Verimliliğin artması
- D) Doğal kaynakların sürdürülebilir tüketiminin sağlanması
- E) Çevre kirliliğinin azalması

1. DENEME SINAVI

13. Günümüzde artan nüfusa bağlı olarak su kullanımının artması ve küresel iklim değişimleri sonucu su havzalarının daralmasıyla; ülkeler arasında su kaynaklarının kullanımını ve paylaşımı önem kazanmıştır.



Buna göre, haritada numaralandırılan bölgelerin hangisinde, su kaynaklarının kullanımı ve paylaşımına yönelik sorunların daha fazla olması beklenir?

- A) I B) II C) III D) IV E) V

14. İnsanlar, ilk çağlardan itibaren uzun bir süre doğal sistemin işleyişi içinde kalarak yaşamlarını sürdürmüşler ve bu sürece pek müdahale edememişlerdir.

İnsanların doğal sistemlere müdahalesi, aşağıdaki gelişmelerden hangisi ile en üst düzeye çıkmıştır?

- A) Tekerleğin icadıyla
B) Sanayi Devrimi'yle
C) Sulama kanallarının yapılmasıyla
D) Yeni kıtaların keşfedilmesiyle
E) Yazının icadıyla

AYT / Sosyal Bilimler - 2

15.

1 Rusya'nın ihraç ürünlerinin başında doğal gazın gelmesi

2 Hindistan'da çay ve pirinç tarımının yaygın olarak yapılması

3 Japonya'da otomotiv endüstrisinin gelişmiş olması

4 Yunanistan'da yaz turizminin gelişmiş olması

5 Kanada'da orman ürünleri endüstrisinin gelişmiş olması

Ülkelerin doğal kaynakları ile ekonomileri arasındaki ilişkiye yukarıdakilerden hangisi örnek olamaz?

- A) 1 B) 2 C) 3 D) 4 E) 5

1. DENEME SINAVI

AYT / Sosyal Bilimler - 2

16. Aşağıdaki görselde, A ve B ülkelerinin nüfusu politikaları kapsamındaki bazı uygulamaları verilmiştir.



A ülkesi nüfus artış hızını yükseltici, B ülkesi nüfus artış hızını düşürücü politikalar izlediğine göre, bu ülkelere ait uygulamalar aşağıdakilerin hangisinde doğru verilmiştir?

	A ülkesi	B ülkesi
A)	1 ve 2	3 ve 4
B)	1 ve 3	2 ve 4
C)	1 ve 4	2 ve 3
D)	2 ve 3	1 ve 4
E)	3 ve 4	1 ve 2

17. Bölgeler, şekilsel (formal) bölgeler ve işlevsel (fonksiyonel) bölgeler olmak üzere ikiye ayrılır.

Buna göre, aşağıdakilerden hangisi işlevsel bölgelere örnek gösterilemez?

- A) İstanbul Büyükşehir Belediyesi yetki alanı bölgesi
B) Karayolları Genel Müdürlüğü 4. hizmet bölgesi
C) Türkiye İstatistik Kurumu (TÜİK) İstanbul istatistik bölgesi
D) Çukurova pamuk tarımı bölgesi
E) Doğu Anadolu Projesi (DAP) bölgesi

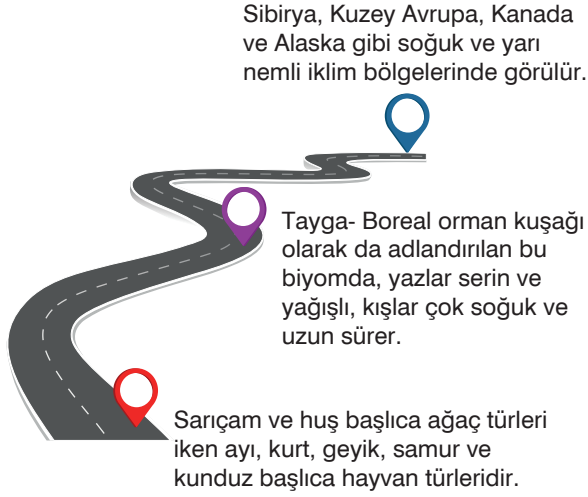
18. Bir ülke, bölge ya da yöreye özgü ürünlerin yerelliğini koruyabilmek için alınan yasal tedbirlerden biri de, Türkiye Patent Enstitüsü tarafından verilen coğrafi işaret sertifikasıdır. Afyon sucuğu, Kayseri pastırması, Antep fıstığı, Kültahya çinisi, Sivas köftesi, Maraş biberi, Safranbolu lokumu coğrafi işaret sertifikası alan ürünlerden bazılarıdır.

Coğrafi işaret sertifikalarının verilmesinin amaçları arasında aşağıdakilerden hangisi yoktur?

- A) Ürünün gerçek üreticilerinin haklarının korunması
B) Taklit ürünlerin engellenmesi
C) Tarihsel ve kültürel değerlerin korunup dünyaya tanıtılması
D) Milli değerleri temsil eden sembol ürünlerin gelecek nesillere aktarılması
E) Ürünlerin üretiminin ülke genelinde yaygınlaştırılması

1. DENEME SINAVI

19. Aşağıdaki yol boyunca karasal biyomlardan biriyle ilgili bazı bilgiler verilmiştir.



Bu bilgilerin sonucunda aşağıdaki biyomlardan hangisine ulaşılr?

- A) İğne yapraklı orman biyomu
- B) İliman çayırlar biyomu
- C) Yaprak döken orman biyomu
- D) Tropikal yağmur ormanları biyomu
- E) Çalı biyomu

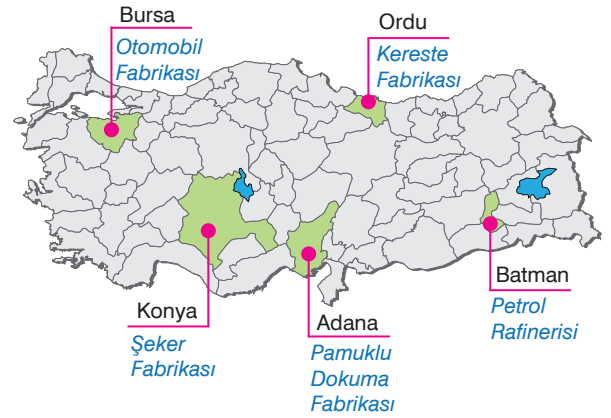
AYT / Sosyal Bilimler - 2

20. Ülkelerin gelişmişlik düzeyini belirlemede kullanılan en önemli ölçütlerden biri de Birleşmiş Milletler Kalkınma Programı tarafından hazırlanan İnsani Gelişim Endeksi'dir. Bu endeks ülkelerin ekonomik özelliklerinin yanında sağlık ve eğitim özellikleri göz önüne alınarak hazırlanmıştır.

Buna göre, ülkelerin İnsani Gelişim Endeksi sıralamasında kullanılan ölçütler arasında, aşağıdakilerden hangisinin olması beklenmez?

- A) Ortalama yaşam süresi
- B) Okullaşma oranı
- C) Kişi başına düşen ulusal gelir
- D) Nüfusu yoğunluğu
- E) Eğitim ve sağlık hizmetlerinin kalitesi

21. Sanayi tesisleri, ulaşım maliyetlerini azaltmak için genellikle ham maddenin bulunduğu yere kurulur.



Haritada gösterilen illerin hangisindeki sanayi tesisleri bu genellemenin dışında kalır?

- A) Bursa
- B) Konya
- C) Ordu
- D) Adana
- E) Batman

1. DENEME SINAVI

22. Aşağıdaki haritada, ilk uygarlıkların kurulduğu bazı alanlar numaralandırılarak gösterilmiştir.



Haritada numaralandırılan bölgelerdeki uygarlıklarla ilgili, aşağıdaki bilgilerden hangisi yanlıştır?

- A) 1 numaralı bölgede Maya ve Aztek medeniyetleri kurulmuştur.
- B) 4 numaralı bölgedeki İndus Vadisi'nde Hint uygarlığı gelişme göstermiştir.
- C) 5 numaralı bölgedeki verimli tarım alanları ile bol su kaynakları, Çin Medeniyeti'nin gelişmesine olumlu etki yapmıştır.
- D) 2 numaralı bölgede kurulan İyonya, Miken ve Fenike uygarlıkları deniz ticaretinde ileri gitmişlerdir.
- E) 3 numaralı bölgede Fırat ve Dicle nehirlerinin varlığı Mezopotamya uygarlıklarının kurulmasında etkili olmuştur.

AYT / Sosyal Bilimler - 2

23. MS 2. - 15. yüzyıl düşünürlerinin inanç-akıl ilişkisine getirdiği açıklamalar dönem boyunca farklılıklar göstermiş inanç-akıl ilişkisi daha çok inanç merkezinde yorumlansa da kimi zaman ikisi bir arada ele alınmış kimi zaman da birbirinden tamamen ayrılmıştır.

Buna göre aşağıdakilerden hangisi sadece inancı kabul eden bir yaklaşımdır?

- A) Tertullian " Akıl almaz olduğu için inanıyorum."
- B) Gazali "Nakli bilgi aklî bilgiden öncedir."
- C) Aquinolu Thomas, "İnanayım diye biliyorum."
- D) Clemens "Anlamak için inanıyorum."
- E) Ockhamlı William "İnanç ve akıl iki ayrı bağımsız alandır."

24. Platon'un "Devlet"i, Atina'nın Spartalılar tarafından işgal edildiği ve Atina demokrasisinin içten içe yozlaştığı bir döneme rastlar. Aziz Augustinus'un "Tanrı Devleti" Roma'nın çöküşü ve dış saldırı altında kalan ve direncini kaybeden insanların ümitsizliğine verilen bir yanittir.

Parçadan aşağıdaki yargılardan hangisine ulaşılabilir?

- A) "İnsan ırkına yayılan bir uyum ve barış düşüncesini dile getirme" insanların olumlu ütopyaların gerçekleşmesine duyduğu ihtiyacı göstermektedir.
- B) Distopik bir toplum otoriter - totaliter bir devlet modeli ya da benzer bir başka baskıcı sistem altında karakterize edilir.
- C) Geleceğin ideal toplum durumlarına ilişkin açıklamalar, gelişmiş toplumsal ilişkilerin zemini üzerinde ortaya çıkmıştır.
- D) Ütopyalar, çoğu zaman dönemin koşullarını, var olan haksızca tutumlara karşı öfke ve çıkış yolu arayışını da yansıtmıştır.
- E) Gerçekleşmesi bugün için olanaksız olarak görülen olumlu ya da olumsuz çarpıcı, ilginç tasarı ya da düşüncedir.

25. Pragmatizm (faydacılık) bilgiyi, insanın çevresiyle ilişkisinde karşılaştığı sorunların çözümünde kullanılan yararlı bir araç olarak kabul eder. Aynı şekilde bilimsel yasa, kuram ve kavramlar da işe yarıyor ve sorunu çözüyorlarsa doğrudur. Örneğin, bir sporcunun sahip olduğu teknik bilgi onu yaptığı spor dalında başarılı kılıyor ve rakipleri karşısında kendisine avantaj sağlıyorsa o bilgi doğrudur ve aynı zamanda değerlidir.

Parçadan aşağıdaki yargılardan hangisine ulaşamaz?

- A) Yararlı olanı doğru bilgi kabul eder.
- B) Bilgi 'kendisi için istenecek' özelliktedir.
- C) Bilginin bize sağladığı pratik değerdir.
- D) Sonuç odaklı bir düşüncedir.
- E) Bilginin çözüm üretme gücüne bakar.

26. Kişi başkası gibi duyma, düşünme ve davranma yoluyla ulaşmak istediği amaçlara ulaştığı hissini yaşayabilir. Bütün büyük adamların mayetlerinde çalışanlara daima elbiselerini ve öteberilerini vermeleri bu yüzdendir. Roma imparatorları, krallar, büyük diktatörler hep kendileri gibi düşünsünler diye eşyalarını dostlarına hediye ederdi. Hatta Osmanlı hükümdarlarının, vezirlerinin kürk ve kaftan ihsan etmeleri de bu yüzden olsa gerektir.

Bu durum aşağıdaki savunma mekanizmalarından hangisine örnek oluşturur?

- A) Özdeşleştirme
- B) Bahane bulma
- C) Bastırma
- D) Yansıtma
- E) Karşıt tepki geliştirme

27. Davranışçı psikologlara göre;

- Yusuf'un sunacağı seminerin içindekileri zihninde tasarlama bir davranış değildir.
- Ancak, Yusuf'un tasarladığı semineri yazması ve sunması bir davranıştır.

Parçaya göre, bir etkinliğin davranış sayılabilmesi aşağıdakilerden hangisine bağlıdır?

- A) Önceden planlanmış olmasına
- B) Düşüncede kalmasına
- C) Gözlenebilir olmasına
- D) Bir amaca yönelik olmasına
- E) Refleks davranışı olmasına

28. Melike'ye annesi dikkatsizlik sonucu kırdığı her bardak için kendi harçlıklarından bardak takımı aldırıştır. Bir süre harçlıklarını bardak almak için harcayan Melike, bir zaman sonra artık daha dikkatli davranıp bardak kırılmaya başlamıştır.

Buna göre Melike'nin annesi, kızının dikkatli olmasını teşvik etmek için aşağıdakilerden hangisini uygulamıştır?

- A) Örtük öğrenme
- B) Model alarak öğrenme
- C) Ceza
- D) Klasik koşullama
- E) Olumsuz pekiştirme

29. Malay kökenli etnik bir grup olan Bajau halkı, neredeyse yüzyıllardır sadece suyun üzerinde yaşıyorlar. Resmi bir devlet kaydı ya da yazılı bir tarihçeleri fazla olmasa da Bajau halkının hikâyesi, sözlü tarihin nesilden nesile aktarıldığı kendi özgün folklor ve geleneklerine dayalıdır. Bajau halkı suya çok sık ve erken maruz kaldığından, bulunması zor bir okyanus ustalığı geliştirdiler. Çocuklar küçük yaşta yüzmeyi, balık tutmayı ve avlanmayı öğreniyorlar.

Bu parçadan aşağıdaki yargılardan hangisine ulaşılabilir?

- A) Aynı gereksinim, farklı kültürlerde farklı yollarla karşılanabilir.
- B) Gereksinimleri karşılamayan kültürel öğeler varlığını yitirebilir.
- C) Geleneklerine bağlı bir kültürün değişme hızı daha yavaştır.
- D) Kültürlerin biçimlenmesinde doğal faktörlerin etkisi vardır.
- E) Kültürler, farklı toplumların etkileşiminden doğmuştur.

30. Osmanlı Devleti kuruluş dönemi İslam âlimlerinden olan Şeyh Edebali'nin yönetim ve toplumsal yaşamda insanın değerini vurguladığı "İnsanı yaşat ki devlet yaşasın!" öğüdü ile gelir dağılımı adaletsiz olmasın, siyasi belirsizlikler yaşanmasın, toplumsal değerler işlevsiz hale gelmesin, milli birlik bilinci azalmasın vb. devlete düşen görevlere vurgu yapmaktadır.

Buna göre Şeyh Edebali'nin aşağıdakilerden hangisini önlemeye yönelik öğüt verdiği söylenebilir?

- A) Kültürel asimilasyonu
- B) Toplumsal çözümü
- C) Hızlı toplumsal değişimi
- D) Kültürel yozlaşmayı
- E) Fonksiyonel bütünleşmeyi

31. Bir açığı olan babam evde de yemek yapmayı çok sever. Mutfak onun işidir. Evde bazen bize yardımcılarına davrandığı gibi davranır. Bankada disiplininden ödün vermeyen bir müdür olan annem evde de disiplininden ödün vermez. Arada hepimizi bu konuda sıkıntıya sokabilir.

Parçada yaşanan sosyolojik süreç aşağıdakilerden hangisidir?

- A) Verilmiş statü
- B) Rol pekişmesi
- C) Kazanılmış statü
- D) Toplumsal rol
- E) Rol çatışması

32. "Bir öğrenci aynı anda hem çalışkan hem de tembel olmaz." önermesi aşağıdakilerden hangisine örnek oluşturur?

- A) Özdeşlik
- B) Çelişmezlik
- C) Tutarlılık
- D) Yeter sebep
- E) Üçüncü halin imkânsızlığı

33. Bir önerme herhangi bir niceleme eklemi almışsa genel, herhangi bir önerme eklemi almışsa bileşiktir.

Yüklemler mantığına göre aşağıdakilerden hangisi tümel, genel ve bileşik bir önermedir?

- A) İstanbul en kalabalık ildir. (Fa)
- B) Bazı bitkiler yeşildir. ($\exists xYx$)
- C) Tüm filozoflar düşünendir. ($\forall xDx$)
- D) Her bebeğin ağladığı doğru değildir. ($\sim \forall xAx$)
- E) Bazı insanların esmer olduğu doğru değildir. ($\sim \exists xEx$)

34. Yeşim, sınava çalışırsa başarılı. ($p \Rightarrow q$)

Bu önerme ($\sim q \Rightarrow \sim p$) şeklinde sembolleştirildiğinde aşağıdakilerden hangisi ile ifade edilir?

- A) Yeşim, sınava çalışmazsa başarılı değildir.
- B) Yeşim ancak ve ancak sınava çalışırsa başarılı olur.
- C) Yeşim başarılı değilse sınava çalışmamıştır.
- D) Yeşim, başarılı değilse sınava çalışır.
- E) Yeşim, sınava çalışır ya da başarılı değildir.

35.-40. soruları Din Kültürü ve Ahlak Bilgisi dersini yasal olarak almak zorunda olanlar ve İmam Hatip Okulları öğrencileri/mezunları cevaplayacaktır.

35. Kur'an-ı Kerim'in açıklaması ve yorumlanması ilmine "tefsir", Bu ilimde ihtisas yapan alime de "müfessir" denir. Müfessirler, Kur'an-ı Kerim'in muhkem (hükmü açıkça belli olan) ve müteşabih (Hükmü veya anlamı yorum gerektiren) ayetlerini, tefsir ve tevil ederek; İslam dininin hem iman esasları hem de amel esasları bakımından zemini ni ortaya koyarlar. Tefsir, ilahi kelamın mana ve maksadı hakkında kesin ifade kullanmaktır; tevil ise kelimelerin varabileceği muhtemel manaların yorumlanmasıdır.

Bu amaçlarla hareket eden bir müfessirden, aşağıdakilerden hangisini yapması beklenmez?

- A) Ayetlerin dilsel ayrıntılarını çözümler.
- B) Ayetlerin indiği dönem hakkında bilgiler verir.
- C) Ayetlerin sırasını düzenler.
- D) Ayetlerin nüzul sebeplerini açıklar.
- E) Ayetlerin doğru anlaşılmasına katkı sağlar.

36. Ey insanlar! Biliniz ki Rabbiniz birdir, atanız da birdir. Bütün insanlar Âdem'den gelmiş, Âdem de topraktan yaratılmıştır. Arap'ın Arap olmayana, Arap olmayanın Arap'a, beyazın siyaha, siyahın da beyaza hiçbir üstünlüğü yoktur. Allah katında üstünlük ancak takvâ ilemdir. Biliniz ki bu şehriniz Mekke, bugününüz arefe ve bu ayınız Zilhicce nasıl mukaddes ve dokunulmaz ise mallarınız ve canlarınız da aynı şekilde dokunulmazdır. (Buhârî, İlim, 9.)

Hiz. Peygamberin Veda Hutbesi'ndeki bu sözlerinden, aşağıdaki yargılardan hangisine ulaşamaz?

- A) Temel insan hakları dokunulmazdır.
- B) Bir mümin, tüm insanları kardeşi olarak görmelidir.
- C) Veda hutbesi evrensel mesajlar bildirir.
- D) Gayrimüslimlerin hakları sınırlıdır.
- E) Allah indinde sadece muttakiler ayrıcalıklıdır.

37. Hac ibadetinin;

- İhram
- Tavaf
- Sa'y
- Arafat vakfesi
- Müzdelife vakfesi
- Şeytan Taşlama

aşamaları insanın iç dünyasına ilişkin çeşitli çağrışım ve duygulanımlar yaşatır.

Aşağıdakilerden hangisi hac ibadetinin, iç dünyamıza dönük kazanımlarından değildir?

- A) İnsana, nefesine direnme gücü kazandırır.
- B) Farklı özelliklerdeki insanlarla Allah indinde eşit olduğumuz bilincini uyandırır.
- C) Kötülüğü hayatımızdan uzaklaştırdığımızda yaşadığımız huzuru anımsatır.
- D) İnsana, kalabalık ve sadelik üzerinden mahşeri hatırlatır.
- E) İnsanı, tüm günahlarından arındırarak bağışlanmış hissettirir.

38. Kur'an-ı Kerim'de namaz ibadeti "salat" adıyla emredilmiştir. Fakat namazın nasıl kılınacağı, vakit, cuma, bayram, cenaze, teravih, teheccüd namazları gibi namaz türleri ve bu ibadetin zaman ve mekan kuralları ayrıntıları ile belirtilmemiştir.

Bu durumda namaz ibadetiyle ilgili ayrıntılar aşağıdakilerden hangisi aracılığıyla belirlenmiştir?

- A) İsrailiyat
- B) Mesihiyat
- C) Sünnet
- D) İcma
- E) Kıyas

39. Müslümanlar, Mekke'den önce peyderpey, miladi 622 yılında da kitle halinde Medine'ye göç etmiştir. Bu göç (hicret) İslam tarihinde o denli büyük önem taşır ki Müslümanlar bu tarihi takvimlerinde başlangıç (milad) kabul etmiştir. Hicretin, tarihî, içtimâî ve iktisadî yönden olduğu gibi dinî, siyasî ve hukukî yönden de birtakım sonuçları olmuştur.

Aşağıdakilerden hangisi bu sonuçlar arasında sayılamaz?

- A) İslâm dininin Arap kabileleri arasında yayılışı hız kazanmıştır.
- B) Kâbe'nin, Müslümanların hayatında önemi azalmıştır.
- C) Hz. Muhammed'in peygamberliğinin yanı sıra devlet idareciliği görevi oluşmuştur.
- D) Müslümanlar, müşriklerin baskı ve zorlamalarından büyük oranda kurtulmuştur.
- E) Müslümanlar eğitim ve kültür açısından ilerleme kaydetmeye başlamıştır.

40. Yüce Allah, Peygamber efendimize Kur'an-ı Kerim'de "Eğer Rabbin dileseydi yeryüzündekilerin hepsi iman ederdi. O halde inanmaları için insanları sen mi zorlayacaksın? (Yûnus; 99)" şeklinde hitap etmiştir.

O halde, bu ayetin hükmü ile;

- I. İnsan hakları
- II. Vicdan hürriyeti
- III. Ekonomik adalet
- IV. Ahiret hayatı
- V. İmtihan dünyası

konularından hangileri doğrudan ilişkilendirilebilir?

- A) I ve II
- B) I ve III
- C) III ve IV
- D) I, II ve V
- E) II, III ve IV

41.-46. soruları Din Kültürü ve Ahlak Bilgisi dersini yasal olarak almak zorunda olmayan veya farklı müfredat ile alanlar cevaplayacaktır.

41. Kartezyen felsefe, kesin bilginin varlığını ortaya koymaya çalışan yöntemli bir felsefedir. Bu yöntem, her türlü bilgidен şüphe duymak suretiyle yanılgılardan kurtulup sağlam bir temele ulaşmayı ve bu temele dayanarak doğru bilgilerin oluşmasını içerir. Modern düşüncenin temel taşlarından olan Kartezyen felsefe, amacının hiçbir şüpheye yer vermeyen en kesin bilgiye ulaşmak olduğunu ortaya koymuş ve bunun da ancak matematik ile mümkün olacağını savunmuştur.

Bu parçada ileri sürülen görüş aşağıdaki filozoflardan hangisinin bilgi anlayışına uygundur?

- A) Descartes
- B) Rousseau
- C) Kant
- D) Berkeley
- E) Spinoza

42. Platon'un yaptığı ruh-beden ayrımı ve ruhun tinsel bir töz olarak kabulü, zorunlu bir sonuç olarak ruhun bedenden sonraki hayatını ve ölümsüzlüğünü de tasdik anlamına gelir. Bununla da kalınmaz, bu görüş bizi ruhun asıl mutluluğa ancak gelecek bir hayatta ulaşabileceği sonucuna da götürür. Böylece Platonculuk aynı zamanda bir öte dünya öğretisi olarak karşımıza çıkar. Bir başka deyişle, Platoncu düşünce, farklı boyutlarıyla din temelli felsefelerin (örneğin Hristiyan felsefesi) içine de göç etmiştir.

Platoncu düşüncenin ruh-beden ayrımı ile din temelli felsefelere kazandırdıkları arasında aşağıdakilerden hangisi yoktur?

- A) Sistematiik bir bakış açısı
- B) Tek tanrı fikri
- C) Ruhun ölümsüzlüğü fikri
- D) Düalist bakış açısı
- E) Ahiret hayatı fikri

1. DENEME SINAVI

AYT / Sosyal Bilimler - 2

43. • Limon yediğimizde, salya artışı refleks olarak gerçekleşir.
- Yaya geçidindeki yayalar, yeşil yanınca karşıya geçer.
 - Havalar soğuyunca daha kalın giyinme ihtiyacı duyulur.

Örneklerden aşağıdaki yargıların hangisine ulaşılabılır?

- A) Davranış ve düşüncelerimiz öğrenmeye dayalıdır.
- B) Bireyin davranışlarına bilinçaltı faktörler etki yapar.
- C) Her davranışın gerisinde farklı bir güdü bulunur.
- D) Aynı uyarıcı bireylerde aynı tepkilere neden olur.
- E) Fizyolojik durum bireyin davranışlarını etkiler.

44. “Bir telefon operatörüyüm. İletişim alanında abonelik hizmetleri yürüten, telefon görüşmelerinin yapılmasına aracılık eden, müşterilere hizmet verebilme bilgi ve becerisine sahip bir kişiyim. Ancak ağırlığı olan, dokunulabilen veya kolayca ölçülebilen şeyler üretmiyorum. Benim ürettiğimi stoklayamazsınız, depolayamazsınız veya paketlenip bir yerden bir yere götüremezsiniz.”

Parçada ekonominin aşağıdaki unsurlarından hangisi örneklendirilmektedir?

- A) Mal
- B) Tüketim
- C) Değişim
- D) Hizmet
- E) Talep

45. I. Köy, aile, akrabalık, oyun, arkadaşlık, grupları
II. Şehir, şirket, dernek, vakıf, sendika grupları

Buna göre aşağıdakilerden hangisi bu iki gruptan sadece biri için geçerlidir?

- A) Biz duygusuna sahip olması
- B) Ortak amaç ve çıkarlara sahip olması
- C) Statülerin ve rollerin olması
- D) Üyeleri arasında etkileşim olması
- E) Belli bir süre devamlılığının olması

46. “Mont veya manto veya kaban giyeceğim.” (p v q r) **önermesi aşağıdaki koşullardan hangisinde yanlış değerini alır?**

- A) p doğru, q yanlış, r doğru olduğunda
- B) p yanlış, q yanlış, r doğru olduğunda
- C) p doğru, q yanlış, r yanlış olduğunda
- D) p doğru, q doğru, r yanlış olduğunda
- E) p yanlış, q yanlış, r yanlış olduğunda

OPTİK FORM

Dikkat!

- Okuma yaparken optik formu düz bir zemine koyunuz, elinizde tutmayınız.
- "Test bulunamadı" hatası alıyorsanız uygulamayı güncelle butonu ile güncelleyiniz.
- Sağlıklı bir okuma için ışığın direk optik formun üzerine düşmesini engelleyiniz.
- Optik formun kıvrılması yada kırışması okunamamasına neden olabilir.

SOSYAL BİLİMLER 2 1. DENEME SINAVI